

De uitdaging met deze puzzel is dat je steeds drie omschrijvingen aan de rechterzijde, moet matchen met het daarbij passend diagram.



Voorbeeld:

Past dit Venn-diagram bij 7. Reptiel, krokodil, vrouwelijk?


Ja, klopt! Alle krokodillen zijn reptielen. Sommige reptielen en krokodillen zijn vrouwelijk.

Vind alle oplossingen.

Kan je nog meer diagrammen bedenken?



1. Mug, Insect, Vleesetende plant
2. Buideldier, Kangoeroe, Konijn
3. Spin, Slang, Giftig
4. Gevaarlijk, haai, goudvis
5. Zoogdier, primate, gorilla
6. Olifant, Indricothere, neushoorn
7. Reptiel, krokodil, vrouw
8. Eierlegend, zoogdier, vierpotig
9. Orca, waterdier, zoogdier
10. Uitgestorven, carnivoor, Afrikaans
11. Kan vliegen, zoogdieren, eieren leggen
12. Dinosaurus, tweebeenige, Triceratops
13. Eierlegend, zoogdier, gewerveld
14. Hebben we een paar diagrammen gemist?



MathPickle



©W4KANGOEROEWEDSTRIJD

Volg w4kangoeroewedstrijd op
Instagram en facebook voor leuke
downloads en puzzels.
Met dank aan www.mathpickle.com
en www.mathplay.eu